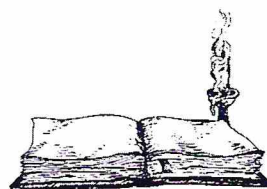


## Занятие 40

### Задание 1.

В древности книги переписывали в ручную. Занимала такая работа несколько месяцев, а то и лет. Неудивительно, что книги тогда считались очень ценными. Если в доме начинался пожар, то первым делом из дома выносили книги, иконы и детей.

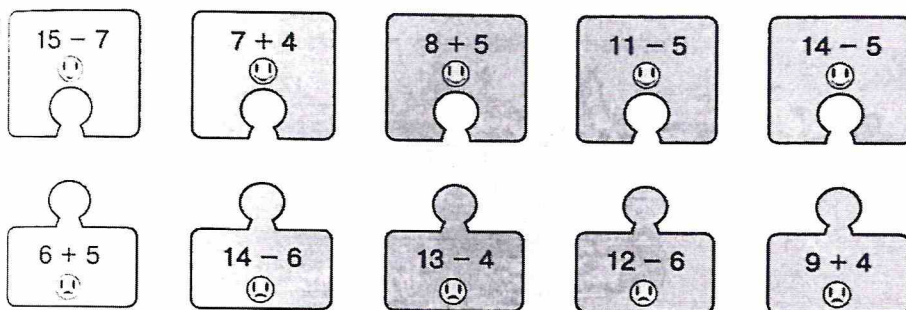


**Выбери правильный ответ:**

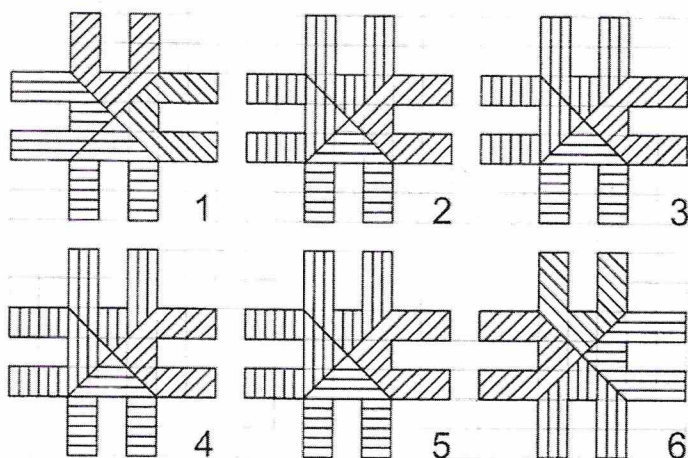
Как в древности делали книги?

- Печатали
- Писали
- Вырезали из дерева, потом намазывали краской и делали оттиск

**Задание 2.** *Соедини стрелками puzzle с одинаковыми ответами*



**Задание 3.** *Раскрась 2 фигура, которое не посмотри на все остальные*



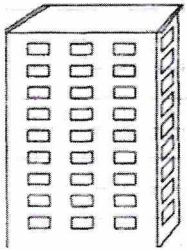
### Задание 4.

Соедини стрелками противоположные по смыслу слова.



### Задание 5.

Антон, Женя и Максим живут на разных этажах: пятом, шестом и восьмом. Женя живёт выше Антона и Максима, а Максим ниже Антона. Кто на каком этаже живёт?



Антон - ... этаж

Женя - ... этаж

Максим - ... этаж

### Задание 6.

Один писец за месяц переписал 9 книг, а второй – на 2 книги больше. Сколько книг переписал за месяц второй писец?

**Решение:**

$$\square\square\square + \square\square = \square\square\square$$

Ответ:  $\square\square$  \_\_\_\_\_



### Задание 7.

Прочитай слова, раздели их на группы, дай название каждой группе слов. Подчеркни слова каждой группы одним цветом.

Учитель, брат, младенец, врач, отец, подросток, инженер, старик, бабушка, продавец, юноша, строитель, взрослые, сестра, ребенок, племянник, швея, водитель, дочь, сын, столяр, библиотекарь, дедушка, воспитатель, внука.


### Задание 8.

Найди и обведи названия стран.

М	В	Л	Ж	О	И	Р	О	С	С	И	Я
К	Ф	Р	А	Н	Ц	И	Я	Ш	Р	М	Ш
Я	Я	Ъ	Ы	Г	Е	Р	М	А	Н	И	Я
П	А	В	Е	Н	Г	Р	И	Я	О	У	Т
О	К	Е	Г	Р	Е	Ц	И	Я	Е	Ы	У
Н	И	Т	А	Л	И	Я	М	Р	Ф	Ч	Р

### Задание 9.


Два коlobка хотят одновременно подойти к флажку. Обведи того из коlobков, который для этого должен двигаться быстрее.



## Занятие 41

### Задание 1.

В давние времена одним из самых опасных сооружений были мосты. Чтобы разные неумехи не брались за их постройку, появилось правило: когда стройка заканчивалась и по мосту ехали первые экипажи, главный строитель стоял под мостом. Если мост выдерживал, то и строитель оставался живым и здоровым, а если обрушивался... то этот строитель больше мостов не строил. Сейчас прочность мостов проверяют на компьютерах, и мосты при этом не падают. Но в первый день работы моста под ним стоит строитель. Такова традиция.



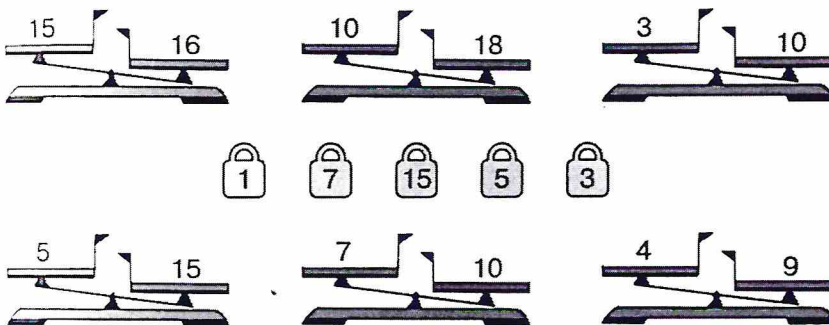
### Выбери правильный ответ:

Зачем строитель стоял под мостом при его испытаниях?

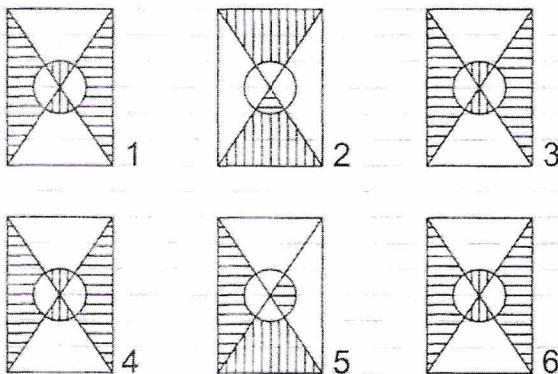
- Чтобы полюбоваться красотой моста
- Чтобы мост не перегружали
- Чтобы показать, что строитель уверен в прочности моста.

### Задание 2.

Поставь на чашку ту гирю, которая сможет уравновесить числовые весы. Зачеркни те весы, которые этими гирями «уравновесить» нельзя.



Задание 3. *Раскрась 2 фигуры, которые не похожи на все остальные*



### Задание 4.

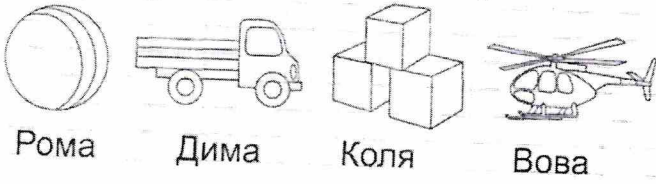
Какое слово не подходит к характеристике храброго человека? Зачеркни его.

- смелый
- бравый
- трусливый
- отважный



### Задание 5.

Четыре мальчика играли разными игрушками. Назови, какими игрушками играл каждый из мальчиков, если Рома играл не машинкой и не вертолётком. Дима не вертолётком, не строителем и не машинкой, а Коля не машинкой. Соедини линиями, кто чем играл.




### Задание 6.

Обычно мост должен выдерживать 10 вагонов. на испытаниях на него поставили 14 вагонов. на сколько больше вагонов поставили на мост на испытаниях, чем обычно?

Решение:

$$\square\square\square\square - \square\square\square\square = \square\square$$

Ответ:  $\square\square$  \_\_\_\_\_



### Задание 7.

Прочитай слова, раздели их на группы, дай название каждой группе слов. Подчеркни слова каждой группы одним цветом.

Вертолёт, автобус, лодка, пароход, дельтоплан, трактор, самолет, теплоход, катер, автомобиль, паровоз, трамвай, дирижабль, троллейбус, велосипед, баржа, поезд, мотоцикл, яхта, мотороллер, парусник.

### Задание 8.

Найди названия городов. *Раскрась их.*

С	Б	У	С	А	Р	А	Т	О	В
О	Л	С	К	М	О	С	К	В	А
Ч	В	Т	К	И	Р	О	В	П	У
И	Л	В	У	Т	Л	П	К	Л	К
Л	К	Т	О	П	У	Ф	А	Л	А
С	У	К	М	У	Л	П	Т	Ж	З
Т	Р	Л	С	С	Я	Л	Т	А	А

### Задание 9.

Проведи линию зеркала. Картинки слева тебе помогут.

